

Categorie:

WIE BEN IK ?



Witte Geit?

DORPS

QUIZ

Kerkdriel

Categorie 1: Wie of wat ben ik?

1. Vele malen laten Kerkdrielenaren hun honden uit. Je bent ze misschien dikwijls tegengekomen, maar heb je er ook op gelet wie hun baasje is? Welk baasje hoort bij onderstaande honden? (de achternaam van het baasje is voldoende) en nee, foto b en foto c zijn niet van dezelfde hond.



a. Wil te Voert



b. Jan Stoof



c. Hans Hooijmans



d. Albert Nendels



e. Michel Wijgergangs



f. Gerard de Leeuw

2. Eens per jaar is het ... Carnaval!! Voor vele het feest van het jaar om lekker onherkenbaar een aantal dagen te genieten van leut en alaf! Herkennen jullie onderstaande carnavalsvierders? Graag voor- en achternaam vermelden.



a. Bart de Leeuw



b. Henk Broekmeulen of
Henk Brasil



c. Theo Hooijmans



d. Toon de Gier



e. Fin van Oers
f. Rens van Herwijnen



g. Mariska van Cromvoirt /
Koops

3. Des Import!

Zijde gij ok unne Drielse? Nee, is het antwoord. Maar toch zijn onderstaande personen erg bekend in Kerkdriel. Zet onder de foto's zowel de naam (voor- en achternaam) als het beroep van deze personen.



a. Hay van Enckevort
b. (kermis)fotograaf



c. Ruzbeh Hodjati
d. pakketbezorger in Kerkdriel



e. Aard en Peter Lagerwerf
f. visbroeders /marktkoopman



g. Roland Putman
h. pater / pastoor



i. Henny van Kooten
j. burgemeester



k. Linda Laurant
l. wijkagente

4. Scheldnamen

Scheld- en bijnamen zijn er genoeg in Kerkdriel, kennen jullie ze allemaal? Welke scheld- en bijnamen horen bij onderstaande afbeeldingen? Graag de scheldnaam en de bijbehorende achternaam noemen.

		
<p>a. de Kwik b. Vissers</p>	<p>c. de Klop d. Kooijman</p>	<p>e. Boerke / d'n Boer f. de Graauw / van Herwijnen</p>
		 
<p>g. de Blauwe vlam h. de Cocq van Delwijnen</p>	<p>i. de Spanjaard j. Nendels</p>	<p>k. Lui uier l. van Alem</p>

5. Ik zie ut oan oe oge!



Dit beeld kennen de meeste wel, Max verstappen in zijn formule 1 wagen. Maar wat nou als een andere bekende Nederlander deze helm opzet. Welke BN-er zit verstopt achter de helm?



Lil' Kleine (Jorik Scholten)



Bobbi Eden



Remy Bonjasky



Matthijs van Nieuwkerk








Máxima Zorreguieta



Willem Holleeder

6. Tatoeages! De een vindt het mooi, de ander afschuwelijk. Welke BN'ers zoeken wij? Welke BN'er hoort bij onderstaande tatoeages. Zet de naam van de bekende Nederlander onder de foto.

		
<p>a. Arie Boomsma</p>	<p>b. Ben Saunders</p>	<p>c. Patricia Paay</p>

	
<p>d. Lisa Lois</p>	<p>e. Memphis Depay</p>

7. Welke twee bekende ex-Drielenaren zie je op onderstaande foto?



Burgemeester Mikkers en Burgemeester Pommer

8. Hebben jullie goed opgelet tijdens de afgelopen carnaval?
Welke 4 leden van de Teskesdurperrood zitten achter het dorpsquiz logo?



a. Peter van Herwijnen

b. Davy van Osch

c. Frenk van den Bogaard

d. Erik Verhoeven

9. Hmmm een echte Drielse lekkernij, maar wat is mijn naam?



(Mini) Drielse Marieke

10. Meesters en juffen. Onderstaande meesters en juffen geven les in Kerkdriel.
Welke meesters en juffen zijn afgebeeld?



a. Meester Martijn



b. Juffrouw Hannie




c. Juffrouw Sharon



d. Meneer Lex



Juffrouw Anette



Meester Frank


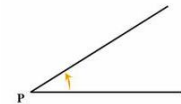
11. Krantenberichten!

Onderstaande krantenberichten komen uit het Carillon van de afgelopen 6 maanden. Wie zoeken we achter het Dorpsquiz logo?

 <p>Winnaars Alwima najaarsactie week 50</p> <p>In Maasdiel kun je tot en met 22 december kans maken op prijzen tijdens de Alwima.</p> <p>Mandy van Brakel, Marian Kiep, Dian Granda, J. Nieuwekers, Gerard van Hoest (allemaal uit Kerkrade), J. Reijnen uit Rossum, Sanny van Heel uit Veldriël, Ricky Dierckx-Steenbakkers en Marton Brekelmans (beide uit Alen). Zij ontvangen allen laerticht thuis.</p>	 <p>Winnaars Alwima najaarsactie week 52</p> <p>De Alwima najaarsactie is afgelopen. Hier volgen de laatste winnaars. Hoofdprijs: J. van der Wal (Playstation 4), Johan Loozeveld (Sony Play II, Ukroodjig, Late Night Shopping), Ans van Tiel uit Rossum, Kees en Be uit Hoerzadiel, G. de Lig uit Veldriël, Marianna de Raan, Thijs van den Hoogen, Mariska van den Hoort, Mandy Piek, Lotte van Bearden, MC van Kallenburg en Van Mook (allemaal uit Kerkrade).</p>
<p>a. Door Müller</p>	<p>b. Mariena de Leeuw</p>
 <p>Nieuwe website voor Ijsbaan Kerkrade</p> <p>KERKRADE - "Is de ijsbaan al open?" Dat is een vraag die bestuurders van de Stichting Ijsbaan Maasdiel (SIM) vaak te horen krijgen. Zeker in een periode zoals nu. Het heeft al gevormd, de baan ligt dicht, logisch dat dan na enkele dagen voort deze vraag rijst, "en dan gaan de mensen bellen naar één van onze bestuurders die ze persoonlijk kersen. Andere zoeken op Facebook naar het antwoord. En vaak kan dat antwoord nog niet gegeven worden, want wat men niet altijd weet is dat er meer tijd komt kijken dan een paar dagen waard. Dus wordt er de volgende dag weer gebeld en zometijd elke dag daarna weer, tot het verlossende woord gesproken kan worden", aldus de organisatie. Wel nu, die tijden lijken voorbij. Het was alomd in het afgelopen jaar dat SIM benaderd werd door Ad van Gessel van ONLINE Identity en Solutions, een Kerkrade's bedrijf. "Hij bood ons aan voor de ijsbaan een nieuwe website te maken, gratis als sponsoring van onze stichting. Daar konden wij natuurlijk geen nee tegen zeggen."</p> <p>Afgelopen week werd de laatste hand gelegd aan de website www.ijsbaankerkrade.nl en als je het Carillon in de briefbus vindt, is ook deze nieuwe site online. Je ziet voortaan in één oogopslag of er al geschaapt kan worden. "Wij zijn er blij mee!"</p>	 <p>The Readshop Kerkrade wint DigiTaalStrijd 2018</p> <p>REGIO - De Grote DigiTaalstrijd is een ludieke battle, waarmee Bibliotheek Rivierland en Businessclub Betuwe in Zaken samen aandacht willen vestigen op het thema laaggeletterdheid. Met zes evenrende evenementen op één avond en een spraakmakende aanloop, waarin schrijver Abdelkader Benali menig deelnemer wist te motiveren zich op te geven, was de Grote DigiTaalstrijd opnieuw een succes te noemen.</p> <p>Lokale winnaars De Grote DigiTaalstrijd vond dit jaar plaats op zes locaties. Elke deelregio had zijn eigen winnaar. Naast The Readshop in de Bommelewaard, waren dat in Culemborg de Ex-fractievoorzitters van linxé snit: in het Land van Maas en Waal SPOM Maas en Waal; in Neder-Betuwe Quiz 't All; in Tiel Taal is zeg maar echt mijn ding; en in West Betuwe Driekes 3 Stars. Regionaal gezien was er een gedeelde tweede plaats voor Team Taal is zeg maar echt mijn ding uit Tiel en de winnaars van vorig jaar, Team Ik ken überhaupt maar een woord Duits. De derde regioplacé was voor Driekes 3 Stars uit West Betuwe.</p> <p>Prijzen Het Regionaal Bureau voor Toerisme heeft de grootste bijdrage geleverd aan de prijspot van de Grote DigiTaalstrijd dit jaar. Die bestond uit luxe streekpakketten met een aantal extra's voor de nummers één en twee.</p> <p>Op elke locatie ontvingen de nummers één een pakket met streekproducten en een dinerbon. De nummers twee kregen er een speciale, door ex-laaggeletterden samengestelde dichtbundel bij.</p> <p>Sponsors Behalve het RBT, heeft Media Europe, leverancier van Bibliotheekboeken, de Grote DigiTaalstrijd mede mogelijk</p>
<p>c. Ko Hooijmans</p>	<p>d. Pauline Kollenburg</p>

12. Hoofdsteden



De onderstaande 19 afbeeldingen vormen samen 10 hoofdsteden. Welke 10 hoofdsteden zoeken we?



Windhoek	Dakar
Belfast	Moskou
Bangkok	Kopenhagen
Wenen	Koeweit
Beiroet	Boekarest

13. Wie kent ze niet; de stripverhalen van Suske en Wiske.

Hieronder staan 6 fragmenten van de kaft van 6 verschillende titels van een Suske en Wiske stripboek. Noem bij elk plaatje de juiste titel

		
a. Het dreigende ding	b. De spokenjagers	c. De Poenschepper

		
d. Het slapende goud	e. Het ijzeren duel	f. De Laatste vloek

14. Wat hebben de 4 onderstaande Drielenaren met elkaar gemeen?



Ze speelden alle 4 samen in de Kerkdrielse band 'Van de Wereld'

15. Hier heb ik nog een foto van heel lang geleden ... Rob de Nijs zong er al eens over.
Herkennen jullie onderstaande oud-Drielenaren ? Zet de juiste naam onder de foto



a. Jo Daams



b. Zuster de Vaan



c. Co Baars



d. Politie Egberts

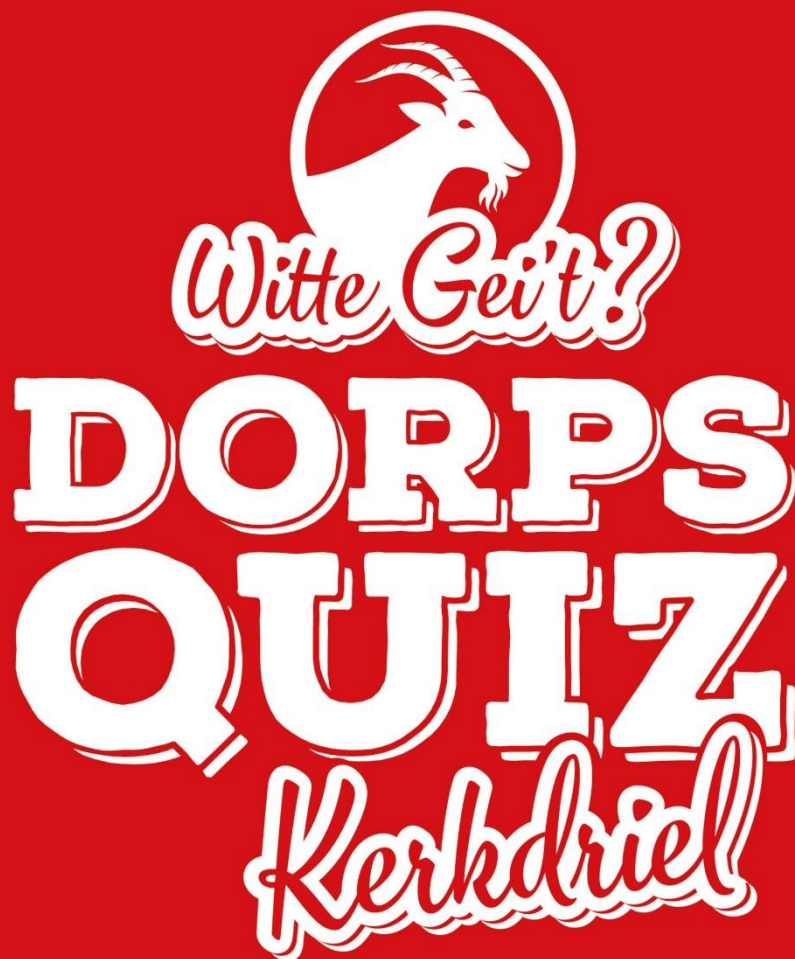


e. Rinus van Oss






f. Jan Poulisse

Categorie:
SPORT



Categorie 2: Sport

16. Sporters met vaste rugnummers; iedereen kent de voorbeelden wel. Sommigen vinden nummers alleen niet voldoende en zetten er nog wat letters voor, zoals Cristiano Ronaldo. Met welke rugnummers zijn onderstaande sporters bekend geworden?

		
a. Nummer 23	b. Nummer 14	c. Nummer 8

d. Tel hun rugnummers bij elkaar op en vorm hiermee een huisnummer. Als je naar de Kerkstraat gaat en je bezoekt dit huisnummer waar kom je dan terecht?

$23 + 14 + 8 = 45$. Het adres wordt dus Kerkstraat 45 en daar bevindt zich het gemeentehuis

17. De een wil alles uit de kast halen en de ander gaat voor de derde helft. In beide gevallen kun je bij verschillende Drielse sportverenigingen terecht. Wat zijn de exacte oprichtingsdata (dd-mm-jjjj) van onderstaande Drielse sportverenigingen?

		
a. 06-06-1970	b. 01-04-1932	c. 15-01-1969

d. Welke badmintonclub werd Nederlands kampioen in het jaar waarin KBC werd opgericht?

BC Duinwijk

e. Welk voetbalteam uit de Engelse Championship is in hetzelfde jaar opgericht als DSC?

Wigan Athletic F.C.

f. Welke tennisster werd winnares van Wimbledon in het jaar waarin TV Maasdriel werd opgericht?

Ann Jones

18. Welke twee Drielse sporters worden hier gehuldigd en waarom?



Wendy Hooijmans en Thijmen Hendriks omdat ze Nederlands kampioen rolschaatsen zijn geworden.

19. Vanaf eind jaren '60 tot begin jaren '90 in de vorige eeuw kende Kerkdriel een bloeiend wielerveven. In die tijd werden er regelmatig wielerronden verreden in en rondom Kerkdriel.



a. In welk jaar werd de editie van de Ronde van Driel verreden die hierboven te zien is?

1972

b. In 1971 werd de eerste Ronde van Driel verreden. Wie was dat jaar de winnaar van deze ronde?

Jo van der Kammen

c. Wie bracht een serenade aan de winnaar en wat was daar bijzonder aan?

DES. Het bijzondere eraan was dat Jo dacht dat DES speciaal voor hem was gekomen, maar ze kwamen toevallig terug van een optreden elders.

d. Regelmatig reden er ook profs mee in de Ronde van Driel. Gert-Jan Theunisse was één van deze profs. In welk jaar won hij de bolletjestrui in de Tour de France?

1989

e. Toen hij de bolletjestrui won, woonde Gert-Jan Theunisse in Kerkdriel. In welke straat?

Mandenmakerstraat

f. In de jaren negentig hadden we een wat grotere wielerronde die door Kerkdriel kwam: De Tour de France. Op welke datum kwam de Tour de France door Kerkdriel?

30 juni 1996

g. Wie won deze etappe?

Frédéric Moncassin

20. Welke bekende sporters zijn hieronder afgebeeld?



a. Ard Schenk



b. Sanne Wevers



c. Egon van Kessel




d. Twan van Gendt



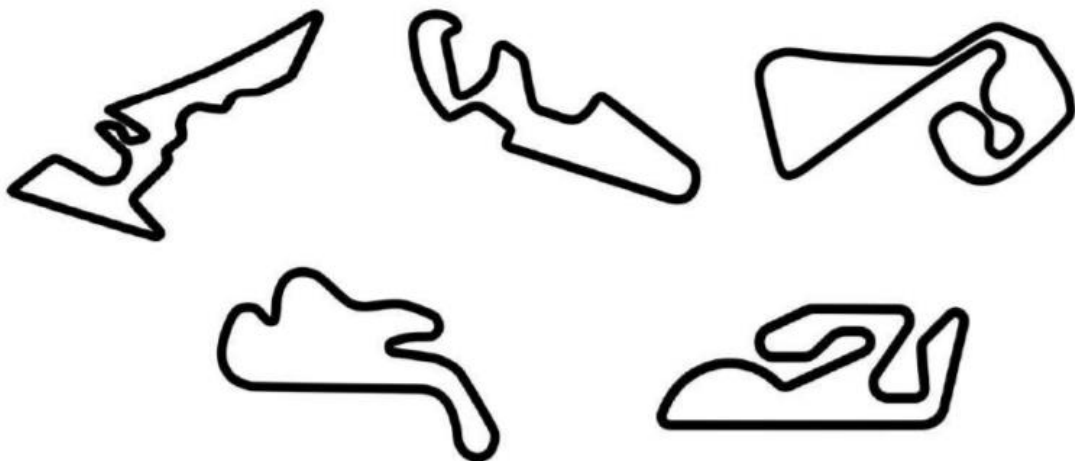
e. Suzanne Schulting

21. Onze Drielse voetbalclub DSC heeft inmiddels alweer jarenlang een tribune naast het hoofdveld. Die moet uiteraard onderhouden worden. Hoeveel planken moeten er worden geschilderd bij zo'n onderhoudsbeurt van de tribune? (De dugouts tellen niet mee!)



67 planken

22. Hieronder zie je een vijftal afbeeldingen van sportlocaties waar het er regelmatig snel aan toe gaat. De locaties hebben een overeenkomst, maar wat is de specifieke overeenkomst tussen deze locaties?



Er wordt tegen de klok ingereden op deze circuits

23. Naast de sportieve prestaties leveren diverse sportievelingen uit de omgeving jaarlijks nog een prestatie om trots op te zijn. Ze zetten zich in voor goede doelen en halen daar geregeld veel geld voor op. Hieronder zie je zo'n team.



a. Wat is de naam van dit team?

Bommelerwaard Runners

b. Hoeveel haalde dit team op met de actie op de foto?

€ 5.300,- (genoemd op twitter) en € 5.400,- (genoemd op website) beide goed gerekend.

c. Wie was in het jaar 2007 de snelste Drielse man uit dit team?

Jos Clement

d. Wie was in het jaar 2007 de snelste Drielse vrouw uit dit team?

Sieta van Kervel

24. Hieronder zie je nog een sportteam dat zich jaarlijks inzet om geld voor een goed doel op te halen.



a. Wat is de naam van dit team?

Team Maasdiel

b. Welke twee Kerkdrielenaren zijn de oprichters van dit team

Mark van den Oord en Herman van Osch


c. Op welke datum is dit team opgericht?

18 oktober 2012


d. Naar welk goed doel gaat het geld dat dit team ophaalt?

Het KWF

25. Vorig jaar was het WK voetbal 2018 in Rusland waar oranje helaas niet te bewonderen was. Herken jij welke land in onderstaande basisopstelling speelde?







a. Brazilië



b. Zwitserland

26. Voor de winnaars staan er soms opmerkelijke prijzen klaar in de sportwereld. Van een staande klok bij de NASCAR sprint cup tot een berg bananen in de ronde van Turkije. Bij welke wedstrijd of evenement zijn onderstaande prijzen te winnen?

	
<p>a. Parijs – Roubaix</p>	<p>b. William Hill World Darts Championship</p>
	
<p>c. Vierdaagse van Nijmegen</p>	<p>d. Paris Masters</p>

27. In de loop van de jaren zijn er ook een aantal sportclubs verdwenen in Kerkdriel. Op de volgende pagina zie je foto's van een tweetal Kerkdrielse sportclubs die inmiddels niet meer bestaan. Geef bij elke foto:

- De naam van de club
- Het jaar van oprichting van de club
- De namen (zowel voornaam als achternaam) van minimaal 5 personen die op de foto staan



a. DSC'71

b. 1971

c. Theo Grandia, Jacques Wels, Toon Verhoeven, Theo Pompen, Jan Rovers, Jan van Hooft, Ton van den Bighelaar. Zittend van links naar rechts Hanna van den Bighelaar, Kees de Leeuw, Rudie Rovers, Poul Coset



a. RCK = Rolhockey Club Kerkdriel

b. 1987

c. Maikel van den Bogaard, Irma Buunen, Lydia Kruit, Monique Dechering, Maaïke Hulshof, Jacqueline van der Meijden, Dennis Taal. Zittend van links naar rechts Hennie van Malsen, Bernadette Stehmann, Desiré Stam

28. Met Kiki Bertens doet Nederland tegenwoordig weer mee in de internationale top van de tenniswereld. Hieronder zie je een aantal lokale tenniskampioenen van Tennisvereniging Maasdriel. Zij werden allen kampioen in 2018.



a. Welke teams werden hier kampioen in 2018?

Gemengd dubbel team vrijdagavond 17+, Heren dubbel zaterdag 35+, Gemengd dubbel team vrijdagavond 35+

b. Waarom vieren deze kampioenen in 2019 opnieuw een feestje?

Tennisvereniging Maasdriel bestaat 50 jaar in 2019

Categorie:

TAAL



Categorie 3: Taal

29. We trappen de categorie Taal af met een woordzoeker. Los de woordzoeker op en vul de uitkomst in, in de hokjes.

Woordzoeker

K	N	N	E	O	I	S	N	E	P
W	E	E	Z	L	T	E	E	Z	E
A	K	R	A	H	E	R	Z	O	I
L	E	E	K	E	O	V	I	R	T
I	H	K	E	D	G	A	E	G	A
T	T	E	L	R	R	R	R	N	E
E	O	Z	I	A	Z	I	U	Q	R
I	P	R	J	W	O	N	E	N	C
T	Y	E	K	N	D	G	I	L	E
A	H	V	S	P	O	N	S	O	R

ERVARING
HYPOTHEKEN
KERKDRIEL
KWALITEIT
LEVEN
PENSIOEN
QUIZ
RECREATIE
REIZEN
SPONSOR
VERZEKEREN
WONEN
ZAKELIJK
ZORG

Theo Grandia

30. Polacy mieszkają w Polsce. W jakim innym kraju europejskim mieszkańcy nazywają się tak samo jak nazwa kraju?

Zweden

31. Jakie są nazwy dwóch polskich supermarketów w centrum Kerkdriel?

Polski Market Marbona & Polski Sklep Stokrotka

32. Aan spreekwoorden en gezegden geen gebrek in Driël. Maar ken je ze ook? Hieronder zijn er een aantal terug te vinden.

daar is geen beginnen aan!	<i>ut is ok gekkewerk ok wor</i>
dat is niks meer waard	<i>ut is kasverkreukult</i>
dat kun jij heus wel	<i>dè kunde gai hendig</i>
dat mag jij niet	<i>dè meude gai nie</i>
Die daar is sterk (of rijk)	<i>D'n dieje kan wel wà lije</i>
Een Hoenzadriëlnaar valt niet ver van de boom. <i>Unne Heuzendriëlse valt nie wijt van dun boom.</i>	
1.	<i>meer buil és tabak</i>
grote zak chips	<i>zigeunerbuil chips</i>
Het valt wel mee	<i>D'n dood is er nie mee gemoeid</i>
2.	<i>dun dieje het pietjes</i>
ik ben maar wat blij	<i>kzij blij toe</i>
Ik ga kapot van de hitte.	<i>Ik pik 't af</i>
ik ga zowat van mijn stokje	<i>`k goai bekant van mun eige af</i>
ik sla je op je bek	<i>ik stomp oe op oewn baast</i>
3.	<i>Dé zék oe</i>
ik zoen dat meisje op haar mond	<i>ik goai da meske op dur bek vatten</i>
kijk voor je!	<i>kek veur oe!</i>
maakt mij niets uit	<i>kan mij nie schille</i>
politie	<i>de juut</i>
tot ziens	<i>tot de pruimetijd wor</i>
Wat een onzin	<i>wanne kwats</i>
wat een onzin hé!	<i>wanne klets wor!</i>
wat wil jij	<i>wa motte gij</i>
wat zeg je?	<i>wa zedde gij?</i>
wat zei je	<i>wa zinde gij</i>
weet je wel wat je zegt?	<i>Wittewel wá ge zegt?</i>
wie zijn jouw ouders?	<i>van wie zijde gij d'r ene?</i>
Wist ze wat ze wilde	<i>Wies ze wa ze wouw</i>

a. Wat betekent uitdrukking nummer 1?

Gebakken lucht (en antwoorden die daarop lijken)

b. Wat betekent uitdrukking nummer 2?

Hij heeft hoofdluis (en antwoorden die daarop lijken)

c. Wat betekent uitdrukking nummer 3?

Ik zeg het je (en antwoorden die daarop lijken)

33. Blokkeerfries werd in 2018 het woord van het jaar. Hieronder vind je de omschrijvingen van een aantal andere woorden die ooit tot woord van het jaar zijn gekozen. Geef per omschrijving aan welk woord er wordt bedoeld en in welk jaar het woord tot woord van het jaar werd gekozen.

	Omschrijving	Woord	Jaar
a.	software om de testresultaten van een apparaat positief te beïnvloeden, met name zulke software die in auto's wordt gebruikt om de CO2-uitstoot gunstiger voor te stellen	Sjoemelsoftware	2015
b.	iemand die videoblogs maakt van het treitergedrag van zijn vrienden en die zelf, door dit gedrag te filmen en de film te publiceren, ook overlast veroorzaakt	Treitervlogger	2016
c.	bestand tegen (de gevolgen van) vernielzuchtig gedrag (van dieren) en vandalisme (van mensen)	Bokitoproof	2007
d.	(van mannen) het geslachtsdeel laten slingeren en moedwillig tegen een object aantikken, onder andere met het oogmerk hierdoor een ander of zichzelf op te winden	Swaffelen	2008

34. In de tabel hieronder zijn drie taalrecords weergegeven. Aan jullie de uitdaging om erachter te komen om welke records het gaat.

	Omschrijving	Record
a.	Llanfairpwllgwyngyllgogerychwyrndrobwlantysiliogogoch	Langste plaatsnaam ter wereld
b.	whiskyproducent	Langste Nederlandse Isogram (woord wat uit allemaal verschillende letters bestaat)
c.	Het Achterhuis	Het meest vertaalde Nederlandstalige boek




35. Onderstaand zie je een aantal namen van mensen met hun woonplaats erbij vermeld. Puzzel de letters door elkaar om er achter te komen welk beroep zij uitoefenen. Elke letter moet gebruikt worden en mag ook maar 1 keer gebruikt worden:

	
<p>a. Ambtenaar</p>	<p>b. Kaakchirurg</p>
	
<p>c. Fietsenmaker</p>	<p>d. Metselaar</p>

36. Spreekwoorden en gezegdes, wij zijn er dol op!!! En jullie kennen ze vast nog wel uit je taalboek van de basisschool. Helaas zijn onderstaande spreekwoorden helemaal in de war geraakt. Welk spreekwoord bedoelen we??

<p>E E N H N K A O T M S C O N Z N E J G R N I</p>
<p>a. Na regen komt zonneshijn</p>
<p>N D N A O V E N D U K A I O E P A R L G T O E R H O D</p>
<p>b. Door het oog van de naald kruipen</p>

37. Goed in talen, behalve betalen. Dan wordt deze vraag een uitdaging want in welk land kun of kon je ooit betalen met het geld dat hieronder is afgebeeld?

a.	
	China
b.	
	Marokko
c.	
	Argentinië

d.	
	Rusland
e.	
	Nieuw-Zeeland

38. Best raar, een hongerige wolf groet echt heel goor drie ijzeren helden... achtmaal!

Wat is er zo bijzonder aan bovenstaande zin?

Hij bestaat volledig uit Nederlandse plaatsnamen en namen van buurtschappen

39. Het Carillon; welke Drielenaar kent dit wekelijkse krantje niet? Hieronder zijn columns uit Het Carillon weergegeven. Geef aan wie deze column schreef en in welke week van welk jaar de column in het Carillon stond.

<h2 style="text-align: center;">Hoogste berg</h2>  <p>Het laatste hindoevorstendom in Azië wordt vaak poëtisch beschreven als 'het aards paradijs' en 'levend museum'. Geïsoleerd van de rest van de wereld door de machtige bergketens van de Himalaya. De dromen van mijn reizende ziel waren weer eens uitgekomen. Ik was in één van de mooiste landen ter wereld beland, Nepal. Ik genoot intens van het ongenaakbare landschap in dit 'dak van de wereld'.</p> <h3 style="text-align: center;">Zijn ogen vertelden dat hij volop genoot van de geneugten des levens...</h3> <p>Al reizend kom ik dan regelmatig mensen tegen die wat meer willen weten over het land waar ik vandaan kom. Tijdens een trektocht door de Himalaya ontmoette ik een Amerikaan uit Colorado, Graham. Ondanks zijn 75 lentes was Graham beslist geen oude uitgebluste knar. Zijn ogen vertelden dat hij volop genoot van de geneugten des levens. Ik had diep respect voor hem omdat hij ondanks zijn gevorderde leeftijd nog vrolijk wandelde op hoogtes van 3.000 meter. Hoger ging hij niet, dat was echt een brug te ver.</p> <p>Graham had spierwitte dunne haartjes en schuifelde met twee skistokken de berg omhoog. Hij wist veel over andere landen te vertellen, al was hij er nooit geweest. Hij vroeg wat over Nederland en ik vertelde hem over onze steden, onze wereldberoemde schilders en sommige tradities, waaronder de Elfstedentocht. Het was 1998 en de laatste Elfstedentocht was juist het jaar daarvoor verreden. Hij was kennelijk onder de indruk van mijn verhaal, want hij vroeg meteen: "When is the next time for this Eleven Cities Skating Tour?" Ik antwoordde hem: "You'll never know, it might be next year, it might be in 22 years." Ik legde hem uit dat de Hollandse winters allesbehalve uitblinken in voorspel-</p>	<h2 style="text-align: center;">Requiescat In Pace</h2>  <p>Ik ben een trouwe begraafplaatsbezoeker. Niet alleen in mijn geboortedorp, waar veel familieleden liggen, maar ook in het buitenland waar vaak andersoortige grafmonumenten opgericht worden. Het is prachtig om op een oud kerkhof rond te lopen en de sfeer op je in te laten werken. Rustgevend en voeding gevend aan de spreuk 'Memento Mori'; Gedenk Te Sterven. Niet dat ik daartoe aanstalten wil maken, maar soms is het wel eens goed om bij het leven en de dood stil te staan. Vooral bij het zien van de soms mooie monumentale graven die een kerkhof blijvend tooien. 'Blijvend', zult u zeggen? In Nederland betekent de term 'rust in vrede' in de praktijk dat uw stoffelijke resten na een periode van tien jaar al vogelvrij zijn, vooropgesteld dat er daarna geen grafrechten (huur) meer worden betaald. R.I.P. hangt dan af van de bereidwilligheid van nabestaanden om de beurs te blijven trekken voor uw welverdiende, maar tijdelijke, rustplaats. Daar kwamen vorig jaar de inwoners van Rossum op niet mis te verstane wijze achter. De gemeente Maasdriel was namelijk van plan om op de oude algemene begraafplaats aan de burgemeester van Randwijkstraat de grafrechten voor onbepaalde tijd te laten vervallen zodat de graven op termijn konden worden geruimd.</p> <h3 style="text-align: center;">Dank je de koekoek!</h3> <p>Sommige grafmonumenten verkeren in slechte staat, maar zijn desondanks voor een groot deel monumentaal te noemen. Een kleine opstand onder de levenden van het dorp brak uit en besmette ook de gemeenteraad die zich nooit met het rijk der doden bemoeit. Het had effect. Het college van burgemeester en wethouders besloot op haar idee terug te komen en laat de graven nu toch ongemoeid. 'Teveel emoties' is de conclusie van de verantwoordelijk wethouder. Ja, dank je de koekoek! Hij moet gedacht hebben dat het voorstel aan de raad slechts een berg dode letters op papier was, maar had niet gerekend op de springlevende tegenstand in het anders zo rustige Rossum. Dit jaar komt hij met een aangepast voorstel. Het zou de gemeen-</p>
<p>a. Jules Leerintveld</p>	<p>c. Robert Goesten</p>
<p>b. 2018 – week 48</p>	<p>d. 2019 – week 2</p>

40. Kraak de code!

32-14-26 32-27-17-21-27-17 14-27-18-27-30-27-27-17 10-27-27-19 21-41-36-36-27-21
Wij wensen iedereen veel succes

41. Geef van de volgende fragmenten aan uit welk boek het komt, wie de schrijver van het boek is en welk woord ontbreekt in de tekst.

2

'Heb ik nu uw interesse gewekt?' vroeg de mannenstem toen Langdon eindelijk opnam.

'Ja, dat hebt u zeker. Kunt u zich nader verklaren?'

'Ik probeerde het u al eerder te vertellen.' De stem was onbewogen, mechanisch. 'Ik ben fysicus. Ik sta aan het hoofd van een onderzoeksinstituut. Er is hier een moord gepleegd. U hebt het lijk gezien.'

'Hoe hebt u me gevonden?' Langdon had moeite zich op het gesprek te concentreren. Zijn hoofd tolde van wat hij op de fax had gezien.

'Dat heb ik u al verteld. Via internet. De site over uw boek, *De kunst van de* ██████████

a. Het Bernini Mysterie

b. Dan Brown

c. Illuminati

22 Wat nu?

Toen de wetenschap – zoals het hoort – de intuïtie had bevestigd, belde Onno Max in Leiden en vroeg of hij 's avonds belet gaf. Het verbaasde Max een beetje, want meestal meldde hij zich pas tien minuten voordat hij langskwam. Om negen uur rees zijn gestommel in het trappenhuis en op de drempel nam hij met lompe sierlijkheid de houding aan van een klassiek godenbeeld, een Apollo van ██████████: met gespreide armen en licht afgewend hoofd.

'Edle Einfalt und stille Größe,' zei hij. 'Je aanschouwt nu een personage, naast wie jij verzinkt in totale onbeduidendheid.'

'Je bent van een bovenaardse schoonheid,' zei Max. 'Het kan niet anders of de geest is in je uitgestort.'

d. De ontdekking van de hemel

e. Harry Mulisch

f. Belvedere





42. Eerder vroegen we jullie om een code te kraken. Nu krijgen jullie een drietal dialectkrakers. Weten jullie welke Drielse gezegden er staan? Let op: het zijn verschillende codes!

a. Lup qon rovkn mov k'b npn Van wie zijde gij d'r ene
b. Happyhyk ho my tymp Wittewel wa ge zegt
c. Fop lau pai gryammi Kan mij nie schille

43. Wij konden moeilijk kiezen welk lettertype we wilden gebruiken in het quizboek. Er bestaan namelijk honderden lettertypes. Weten jullie welke lettertypes uit Word 2016 dit zijn?

a. Dorpsquiz Kerkdriel Haettenschweiler
b. Dorpsquiz Kerkdriel Curlz MT
c. Dorpsquiz Kerkdriel Bodoni MT Black
D. DORPSQUIZ KERKDRIEL Castellar
e. Dorpsquiz Kerkdriel Magnetto

44. De afbeeldingen staan symbool voor bekende Nederlanders of Drielenaren. Weten jullie welke dit zijn?

a.	
TV personage	Johny Flodder
b.	
Drielenaar	Giel van Namen
c.	
Astronoom	Chriet Titulaer
d.	
Drielenaar	Arnold Verbeek

45. Het schijnt niet zoveel uit te maken in welke volgorde de letters van een woord staan. Als de eerste en de laatste letter op de juiste plaats staan, kun je de meeste woorden zonder problemen lezen. Dit komt omdat je hersenen geen aparte letters lezen, maar hele woorden. Welke Kerkdrielse straten worden hier bedoeld?

a. Mseratreigadiraet
Maire de Gierstraat
b. Sorebietgom
Steigerboom
c. Bautsertesmuerrat
Buurmeesterstraat
d. Kraanstreest
Kersenstraat

46. Uit welke reclames komen de volgende oneliners?

	Oneliner	Reclame (Merk)
a.	Stom hè, ik vind het gewoon lekker	Calvé pindakaas
b.	Niet omdat het moet, maar omdat het kan	Tele 2
c.	Leuker kunnen we het niet maken, wel makkelijker	Belastingdienst

Categorie:

GEHEIME VRAAG



Categorie 4: Geheime vraag

47. Deze ronde bestaat maar uit één opdracht die veel punten oplevert!

Bepaal binnen je team wie de beste tennisser of tennisster is en zorg dat diegene om 20.30 uur in tennisoutfit (met tennisracket!) aanwezig is bij Tennisvereniging Maasdriel.

De spelregels hoor je daar. Let op: de persoon moet zijn/haar teamnaam en nummer kennen!



Categorie:

VAN ALLES WAT



Categorie 5: Van alles wat!

48. Bordspellen, wie heeft ze niet in huis? Maar herken je ook welk spel we spelen aan de hand van onderstaande foto's? Welk spel spelen we?



a. Othello




b. Mens erger je niet



c. Levensweg



d. Stef Stuntpiloot




e. Agricola



f. Poepie Knor

49. Een worm knabbelt zich een weg door een tiendelige boekenreeks die in een kast staat (zie foto). Elk boek bestaat uit 1000 bladzijden. De worm begint aan de voorkant van het eerste boek en eindigt aan de achterkant van het laatste boek. Van hoeveel bladzijden heeft de worm geknabbeld? De kaften tellen niet mee!



8000

50. Waarvan zijn de volgende logo's ? Schrijf de antwoorden onder het logo



a. Pringles



b. Lada




c. SOS Kinderdorpen




d. TomTom


51. Welke computergames worden hieronder afgebeeld?




Grand Theft Auto 5



Minecraft




Roblox



Fortnite

52. Welke beroemdheden staan afgebeeld op onderstaande foto's?



a. Famke Louise



b. Jebroer



c. Boef



d. Lil' Kleine




e. Maan



f. Dee



g. Davina Michelle



h. Jeroen van Holland



i. Gamemeneer



j. Ariana Grande

53. Wat ben ik? Wie herkent deze voorwerpen? Schrijf de naam onder het voorwerp.



a. (snij)bonen snijder



b. bandenlichters




c. Peillood hengelsport




d. Fietssleutel

54. Hoe heten de Fortnite-dansjes die hieronder zijn afgebeeld?



a. Ride the pony



b. Floss




c. The robot



d. Fresh


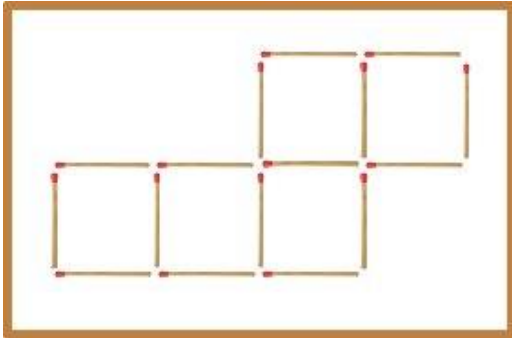


e. Disco Fever













f. The worm

55. Je ziet hier 5 vierkanten. Verplaats 2 stokjes zodat er 4 gelijke vierkanten overblijven.
Teken het nieuwe figuur in onderstaand vak



56. Wie is de jongste van de twee op onderstaande jeugdfoto's? Noteer van de jongste persoon de naam (in het linkervak) en geboortedatum (in het rechtervak).

		a. Max Verstappen	b. 30 september 1997
		c. Rico Verhoeven	d. 10 april 1989
		e. Selena Gomez	f. 22 juli 1992
		g. Anouk	h. 8 april 1975
		i. Enzo Knol	j. 8 juni 1993

57. Maak één van onderstaande familiefoto's zo goed mogelijk na met je eigen team. Plak de foto in het vak op de volgende pagina! Let op: hier kun je veel punten mee verdienen!

(Stuur de foto ook vóór 23.00 uur naar info@dorpsquizkerkdriel.nl. Let op! Vergeet je teamnaam niet te vermelden!)





Categorie:
MUZIEK



Categorie 6: Muziek

58. We gaan beginnen met een aantal bekende nummers. De emoji's beelden de titel van een liedje uit. Schrijf in de tabel de titel en de naam van de artiest/band.

	Zing, vecht, huil, bid, lach en bewonder – Ramses Shaffy (en andere antwoorden goedgerekend!)
	Una paloma blanca – George Baker Selection (e.a. antw goed!)
	Boom, boom, boom, boom – Vengaboys (e.a. antw goed!)
	Paradise city – Gun's and roses (e.a. antw goed!)
	Knockin' on heaven's door – Bob Dylan (e.a. antw goed!)
	Daar gaat ze – Clouseau (e.a. antw goed!)
	Purple rain – Prince (e.a. antw goed!)
	Sexbomb – Tom Jones (e.a. antw goed!)
	Baby one more time – Britney Spears (e.a. antw goed!)
	Three little birds – Bob Marley (e.a. antw goed!)

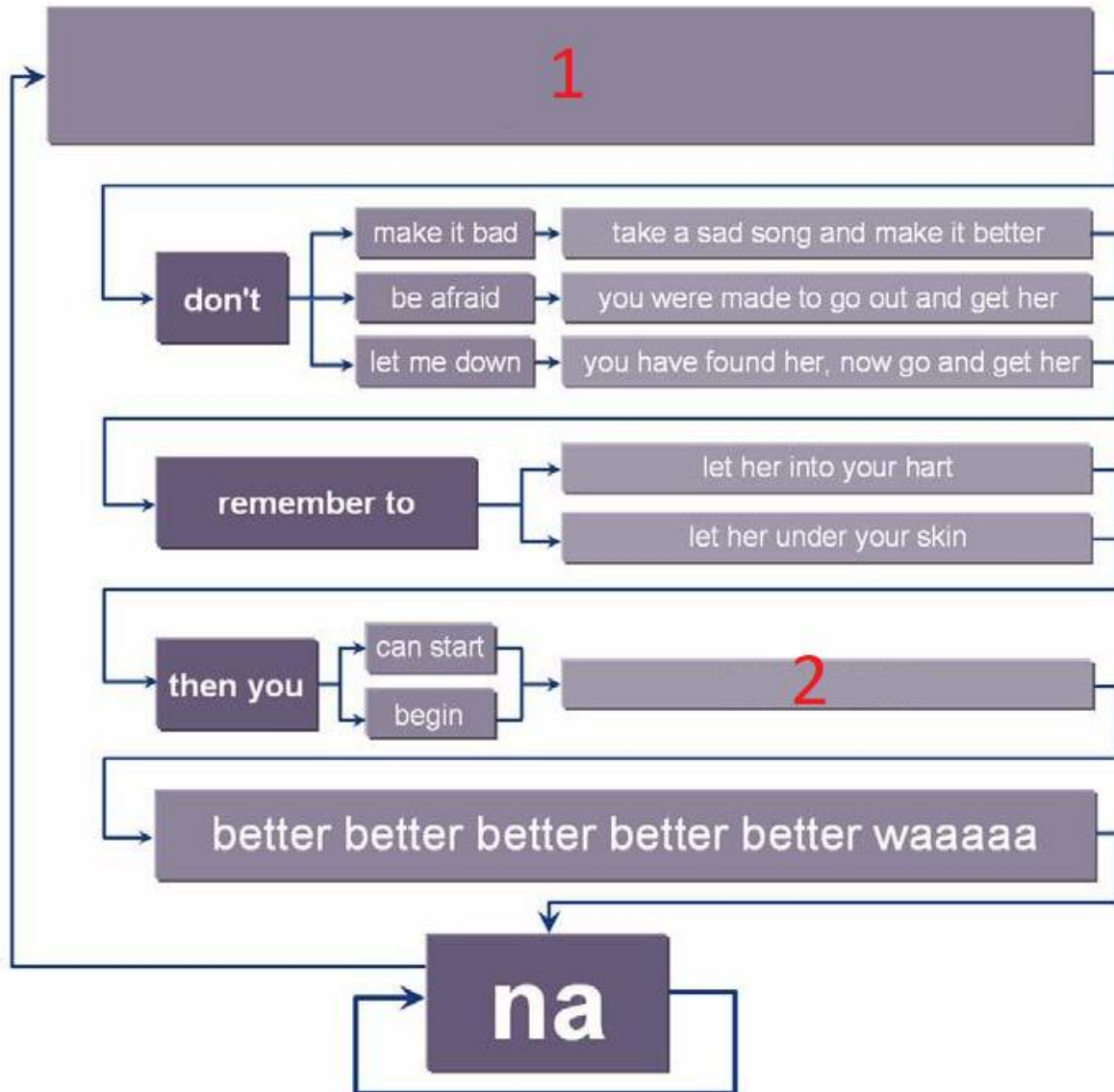
59. Hoe heet de musical die door de Mgr. Zwijsenschool is opgevoerd in de Kreek op 1 en 2 april? En wat is de naam van de muzikjuffrouw op de Mgr. Zwijsenschool?

a. Naam Musical?	APC (De Anti Pest Club)
b. Naam muzikjuffrouw? (Voor- en achternaam!)	Juffrouw Inge Storms

60. Wat hebben Amy Winehouse, Kurt Cobain en Jimi Hendrix gemeen?

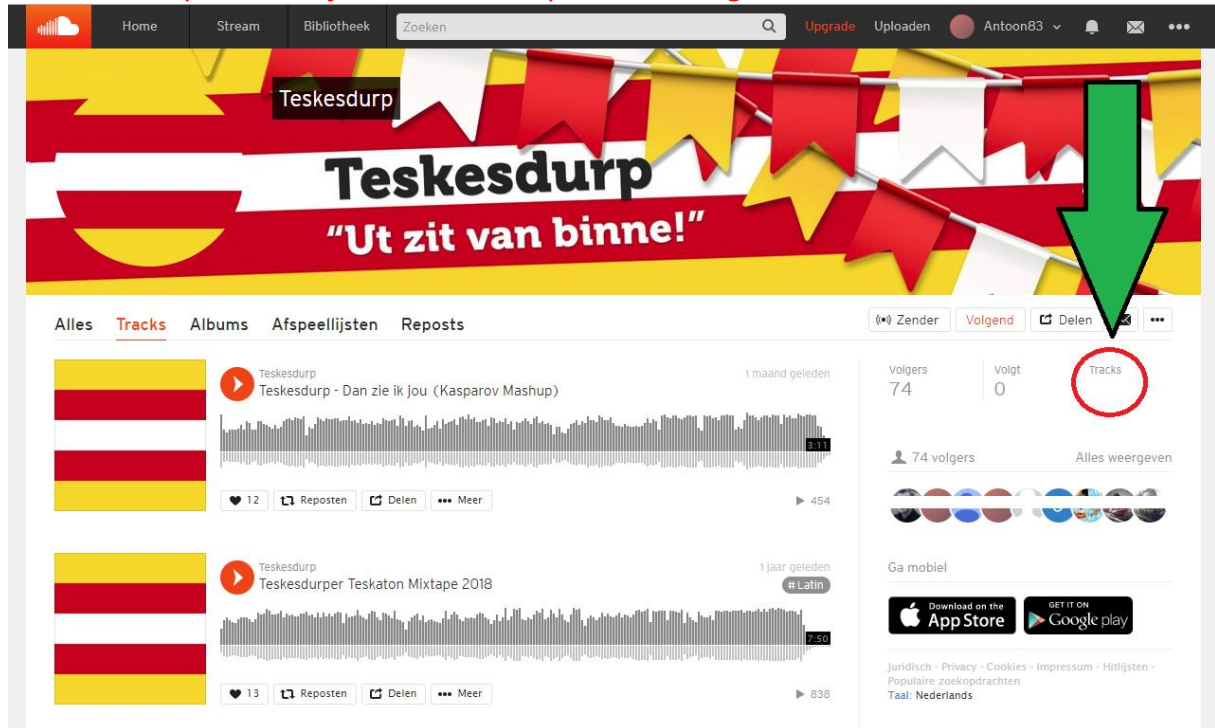
Ze stierven alle drie op 27-jarige leeftijd. (Club van 27)

61. Hieronder staat een wereldhit schematisch afgebeeld. Welke regels hebben we uit het lied verwijderd en horen er te staan op plaats 1 en 2?



a. Nummer 1?	Hey Jude
b. Nummer 2?	To make it better

62. Teskesdurp heeft al zijn carnavalshits op Soundcloud gezet. Hoeveel tracks staan er online?



36 en 37 beiden goed vanwege wisselend weergegeven antwoorden op Soundcloud

63. Voor speciale gelegenheden zoals 25- en meerjarige huwelijken, jubilea en dergelijke is een serenade door KHSC mogelijk. Bij vroegtijdige aanvraag en in overleg kan een tijdstip worden bepaald, mede afhankelijk van het aantal muzikanten dat dan kan. Hoe kun je volgens de website van KHSC een serenade aanvragen?

Contacteren voor serenades kan via het contactformulier.

64. Jachthoorn- en trompetterkorps DES kende in zijn verleden vele hoogtepunten. Wat was hun hoogtepunt in 1997?

Eerste prijs eerste divisie

65. Welke liedjes zijn hieronder in Driels dialect uitgeschreven?

Ik wil zijn woar de zon de lucht vurwermt
As ut tijd is vur un dutje
Kunde ze vurbei zien komme
mooie koppe, gin zurge in deze wèrld
Woar un vrouwke van unne kél haauxt
En unne kél van un vrouwke

a. La isla Bonita - Madonna

Ik krijg de rillingen over mun lijf
En ut wor steeds erger
Ik wit mit mun eige gin road


You're the one that I want – Grease

want de kracht die gij uitstroalt zet me onder stoom	
Ik zij oan 't vliege Ik zij oan 't vliege As unne vógel Dur du lucht Langs hoge wolke Om bij oe te zijn Om vrij te zijn	I am sailing – Rod Stewart
Mar toen de vertelde dè ge unne hekel oan mun moaten haat Waar de gei 't probleem en nie hullie En elke keer dè ge zin de ik gin gelijk haa en probeerde dek vergaat woar ik vandoan kwam.	Love yourself – Justin Bieber
Ik rij over heur stroaten Want zij is mijne compagnon Ik loop over heur berge, Want ze wet wie ik zij.	Under the bridge – Red hot Chilipeppers

66. Welk liedje werd er in de kiosk gedraaid bij het ophalen van het quizboekje?

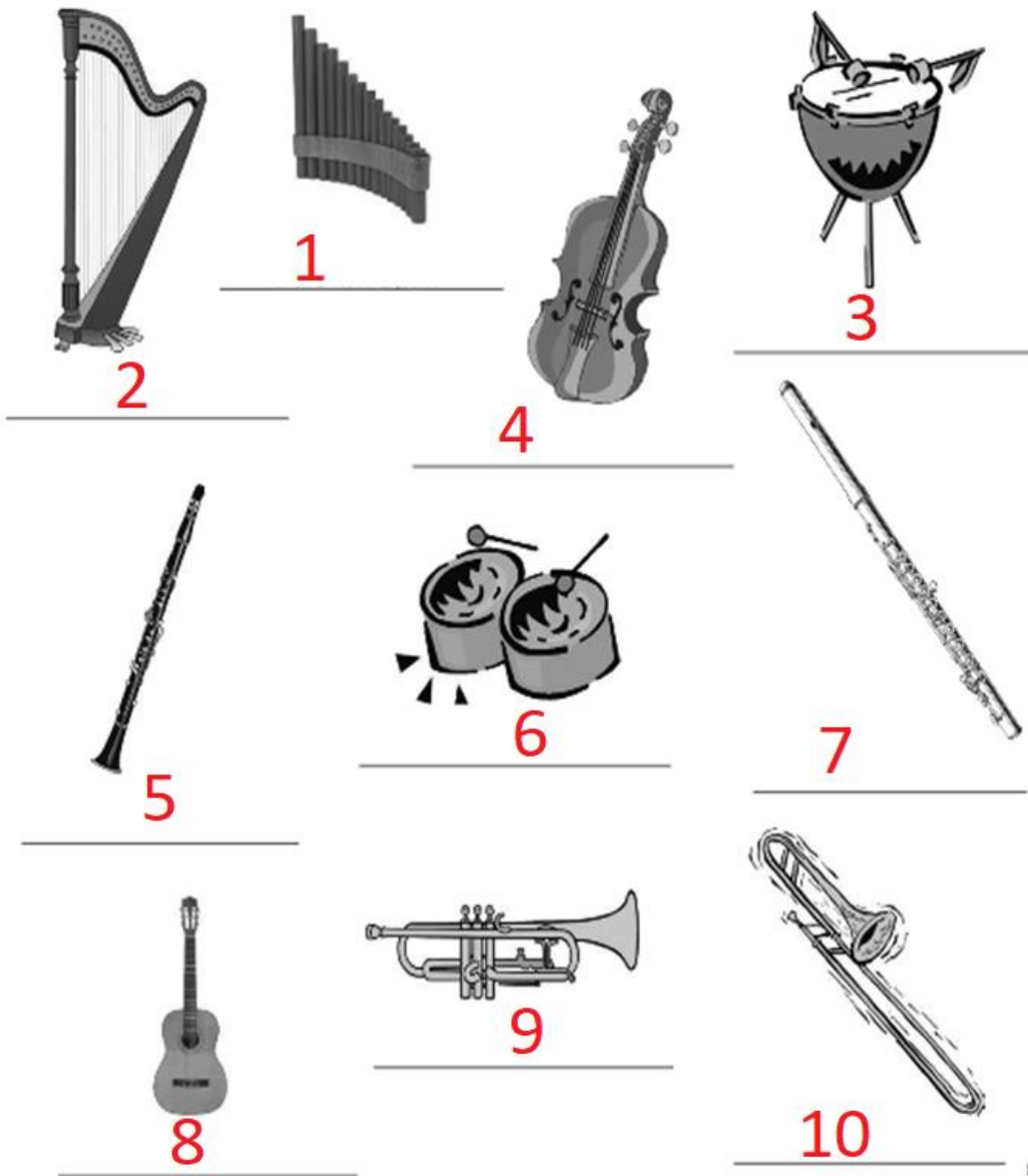
Monsieur Cannibale - Sacha Distel

67. Van welnummer is deze grafische voorstelling?



Vader Jacob

68. Welke instrumenten zijn hieronder afgebeeld?



1. Panfluit	6. Trommel
2. Harp	7. Dwarsfluit
3. Pauken	8. Gitaar
4. Viool	9. Trompet
5. klarinet	10. Trombone

69. Muziek en cafés zijn onlosmakelijk met elkaar verbonden. Zo ook in Kerkdriel. In welk café is deze foto genomen?



Het Veerhuis

70. Aanstaande donderdag (Hemelvaartsdag) treedt smartlappenkoor Gère weg weer op. Waar gaat dit optreden plaatsvinden?

Tranendal achter de heuvels Groesbeek

71. Over welke Kerkdrielse vereniging gaat onderstaand bericht?



Regio

Algemeen

Sport

Video

Koken & Eten



viert 35-jarig bestaan. © Sharon Willems

Kerkdrielse vereniging viert 35-jarig jubileum

KERKDRIEL - Toen de van oorsprong Kerkdrielse vereniging 35 jaar geleden begon, waren er nog meer dan dertig leden. Nu is dat aantal geslonken, maar zondagmiddag wist de vereniging toch een feestje te maken bij Café 't Luchtschip in Kerkdriel.

Accordeonvereniging Vita Nova

72. Hoe heet het Kerkdrielse kapel dat momenteel bestaat uit zo'n 17-tal muzikanten met een hart voor de Egerländer- Böhmische-, Tjechische en Moravische muziek?


Egerländerkapel TDM

73. Welk Kerkdriels lid van Ammel Blauw staat hier op de foto?



Tonnie van der Meijden

74. Ga op de foto met een lid van mannelijk lid van de vereniging die bekend is van onderstaand logo.



75. Noem de artiesten die bij onderstaande CD-hoesjes horen.



K3



Bob Dylan



Johan Moreno



Guus Meeuwis en Vagant

76. In Kerkdriel nemen de mensen geen blad voor de mond. Maar kunnen ze ook bladmuziek lezen? Welk nummer wordt hieronder afgebeeld?



Tussen Keulen en Parijs / In den Haag daar woont een graaf (beiden goed)

77. Ook nu zijn we weer op zoek naar de titel van onderstaand muziekstuk. Weten jullie welk nummer er wordt weergegeven?



Hansje Pansje Kevertje / Op een grote paddenstoel (beiden goed)

78. Op de rotonde in de Kerkstraat in Kerkdriel speelt zich een muzikaal tafereel af. Op wat voor muziekinstrument speelt het rode object van kunstenaar?

Cello

79. Welke Kerkdrielse volkszanger haalde in 2018 de krant en nam deel aan de finale van Volkszanger Junior?



Daymian van Os

Categorie:

DOE EN ZOEK



Categorie 7: Doe en zoek!

80. Er is er een jarig!

Wat een feest, weer een jaartje ouder. Vandaag vieren we de verjaardag van bijvoorbeeld Prinses Laurentien, maar ook in het dorp zijn er vandaag mensen jarig. Aan jullie team de opdracht om op zoek te gaan naar een jarige job in de omgeving. Wanneer je deze gevonden hebt gaat minstens één van jullie teamleden met hem of haar op de foto waarbij het ID (met geboortedatum) van de jarige duidelijk in beeld is. Oh, en vergeet de jarige job niet te feliciteren 😊.

Plak hier de foto van minimaal één teamlid mét de jarige uit de omgeving. ID (met geboortedatum) van de jarige moet duidelijk in beeld zijn!

Let op! ID moet duidelijk in beeld zijn!

81. High Tea!

Iedereen kent ze wel, de labeltjes aan het origineel theezakje van Pickwick. (Zie voorbeeld)
Er ontbreken nog wat labeltjes in onze verzameling. Krijgen jullie ze voor ons gevonden?? Plak hieronder de labeltjes van een origineel Pickwick theezakje met de volgende tekst:


- Wat is jouw favoriete boek?
- Met wie zou jij graag een beschuitje willen eten?
- Wat staat er altijd bij jou in de koelkast?



a. Wat is jouw favoriete boek?	b. Met wie zou jij graag een beschuitje willen eten?	c. Wat staat er altijd bij jou in de koelkast?
--------------------------------	--	--

82. Voor de opletters!

Tijdens het ophalen van het quizboek hingen er ballonnen. Welke kleuren hadden deze ballonnen? (Teruggaan heeft geen zin, want de ballonnen zijn al gevlogen). Kleur de ballon netjes in met de juiste kleur. Schrijf de kleur ter controle in blokletters onder de afbeelding.



Wit

83. Stuivertje wisselen!

Wie heeft ze nog, ouderwetse stuivers? De oudste bekende vermelding van de stuiver dateert van 1404. Wij zijn echter opzoek naar een stuiver uit 1980. Plak deze hieronder in het vak met het jaartal naar de voorzijde.

<p><i>Plak hier met doorzichtig plakband uw stuiver uit 1980.</i></p>	
---	--

84. Hoe hiet de straatje ok al wer? Cryptische omschrijvingen van straatnamen.

Kun jij raden welke straat in Kerkdriel hier wordt bedoeld?

a. De candybarstraat
Marslaan
b. Let op! Zachte _____
Berm
c. Biermakersstraat
Brouwersstraat
e. Fabrieken weg
Industriestraat
f. Engelse vuurspuwer
Dragon
g. Een tip + stukje vleeswaren.
Hintham
h. Cirkel ochtend
Ronde Morgen
i. Geldstuk
Munt

j. Van Lippe-Biesterfeld weg

Bernhardstraat

h. Botennatie

Schepenland

85. Putje kaarten! Hieronder ziet u een set kaarten uit het kaart- en kwartetspel van Vita Nova. Wat was destijds de schoppenboer?



Het Arendsnest

86. Ik zie ze vliegen! Onderstaande foto dateert uit 1995.



Op welke locatie is deze foto genomen? (Noem attractiepark + plaats)

Attractiepark = Autotron

Plaatsnaam = Rosmalen



87. Wat stond er ten tijde van de Tweede Wereldoorlog op de voorgevel van bovenstaand gebouw aan het Mgr. Zwijzenplein?

De Engel

88. Bellen mar! Welke woorden kun je maken met de onderstaande cijfercombinaties?

<table border="1"> <tr><td>3</td></tr> <tr><td>7</td></tr> <tr><td>4</td></tr> <tr><td>3</td></tr> <tr><td>5</td></tr> <tr><td>7</td></tr> <tr><td>3</td></tr> <tr><td> </td></tr> <tr><td>5</td></tr> <tr><td>3</td></tr> <tr><td>7</td></tr> <tr><td>6</td></tr> <tr><td>4</td></tr> <tr><td>7</td></tr> </table>	3	7	4	3	5	7	3		5	3	7	6	4	7	<table border="1"> <tr><td>8</td></tr> <tr><td>3</td></tr> <tr><td>4</td></tr> <tr><td>7</td></tr> <tr><td>8</td></tr> <tr><td>3</td></tr> <tr><td>7</td></tr> <tr><td>2</td></tr> <tr><td>2</td></tr> <tr><td>6</td></tr> <tr><td>8</td></tr> </table>	8	3	4	7	8	3	7	2	2	6	8	<table border="1"> <tr><td>9</td></tr> <tr><td>2</td></tr> <tr><td>6</td></tr> <tr><td>3</td></tr> <tr><td>6</td></tr> <tr><td>3</td></tr> <tr><td>7</td></tr> <tr><td>3</td></tr> <tr><td>6</td></tr> </table>	9	2	6	3	6	3	7	3	6	<table border="1"> <tr><td>3</td></tr> <tr><td>3</td></tr> <tr><td> </td></tr> <tr><td>5</td></tr> <tr><td>7</td></tr> <tr><td>3</td></tr> <tr><td>3</td></tr> <tr><td>5</td></tr> </table>	3	3		5	7	3	3	5
3																																													
7																																													
4																																													
3																																													
5																																													
7																																													
3																																													
5																																													
3																																													
7																																													
6																																													
4																																													
7																																													
8																																													
3																																													
4																																													
7																																													
8																																													
3																																													
7																																													
2																																													
2																																													
6																																													
8																																													
9																																													
2																																													
6																																													
3																																													
6																																													
3																																													
7																																													
3																																													
6																																													
3																																													
3																																													
5																																													
7																																													
3																																													
3																																													
5																																													
a. Drielse kermis	b. Teisterbant	c. Zandmeren	d. De Kreek																																										

89. 't Carillon

Iedereen kent het Carillon: het nieuwsblad van Kerkdriel en omstreken. Wie heeft de oudste versie? Maak een duidelijke foto van het oudste Carillon dat jullie kunnen vinden.

Plak hier de foto van het Carillon
(datum duidelijk zichtbaar) waarop
ook de voorpagina van dit quizboek
duidelijk zichtbaar is.

Stuur de foto ook naar: info@dorpsquizkerkdriel.nl
onderwerp mail: opdracht Carillon + teamnummer + teamnaam.

90. Puzzel je rot! Succes met de rebussen!



-K



-& +




a. Kerrols



-ers + 15ml + & +



b. Piepelenberg



t=d

c. Watersnood



van



d. Burgemeester van Haarenstraat



k=c -



e. Compost

91. Drie vragen over het boekje van de Rabobank 'Mensen hun dromen nu en toen' (2003)

a. Wie zit er in de stoel?

b. Over wie gaat deze inleiding?

c. Hoe oud was An Broekmeulen ten tijde van de foto?

	<p><i>Quod isti et istae, cur non ego?</i> Zie hier een uitspraak van de Christelijke denker Augustinus waarvan de vrije vertaling luidt: waarom zou ik niet dát kunnen wat anderen ook kunnen? liet zich mede door deze uitdrukking begeistere en hij toog naar Ethiopië. Onder extreem moeilijke omstandigheden werkte hij daar veertig jaar als</p>	
<p>a. Lou Nendels</p>	<p>b. Pater Essing</p>	<p>c. 74 jaar</p>

92. Wijlen Anton Vissers heeft ooit een boekje uitgebracht met de titel: *Áúw Driel – Verhaoltjes over kleurrijke minse*. Wat is de titel van onderstaand kunstwerk:



De waasvrouw

93. Auw plotjes. Wat is de naam van het gebouw?



a. De Leijenstein



b. De Piepelenberg



c. De Bibliotheek



d. Den Ipper



e. Het Witte huis



f. Het Klooster (Liefdesgesticht)

94. Drielse logo's. Van welke ondernemingen en verenigingen kennen we deze logo's ook alweer?

			
a. Jan van Diesen	b. De Meidoorn	c. Wammes Discus	d. Kerrols
			
e. Vissers advocatuur	f. Hooijmans Compost	g. Goesten	h. KBC
			
i. De Groot Kachels	j. NC Fit	k. Babbels	l. Slagerij Sars

			
<p>m. Euronics/De Rouw Electro</p>	<p>n. Brood & Zo</p>	<p>o. Alwima</p>	<p>p. AE Sound</p>
			
<p>q. Piels Fysio</p>	<p>r. DES</p>	<p>s. GVK</p>	<p>t. Berghout banden</p>

95. Stukske fietse!

Je start vanaf het beeld van Monseigneur Zwijsen op het Mgr. Zwijsenplein. Je fietst de Teisterbandstraat in. Fiets richting huisnummer 50. Daar staat een imposante boom in de voortuin. Dit is een ____a.____ (boomsoort invullen). Vervolgens gaat u rechtsaf de Paterstraat in. Fiets door tot het voetbalveldje in de Paterstraat. Op huisnummer 86 is een bedrijf gevestigd. Wat is de naam van dit kantoor? Dat is ____b.____. Vervolg uw route door de Paterstraat, totdat u rechtsaf Kloppenland in kunt slaan. Meet nauwkeurig de lengte van het straatnaambordje "Kloppenland" zoals aangegeven op de afbeelding. Dit straatnaambordje is ____c.____ cm lang.



Blijf kloppenland volgen en ga de eerste weg rechts "Esdoornstraat". Tel het aantal lantaarnpalen aan de rechterzijde van de straat. Hier staan ____d.____ lantaarnpalen. Einde weg linksaf en ga op de T-splitsing rechtsaf. Ga de eerste weg rechtsaf richting het dierenparkje. Welke naam is verbonden aan dit dierenparkje? ____e.____ Fiets vervolgens naar de drie flats in Kerkdriel. In het verlengde van de Antillenstraat ligt er voor de flats roodachtige ovale bestrating. Hoeveel lantaarnpalen staan er in dit rode ovale vlak? ____f.____ Fiets in de richting van de rotonde in Kerkdriel en sla rechtsaf richting het gemeentehuis. Welk nummer heeft het stoplicht (gele sticker) aan de rechterkant? ____g.____ Vanaf de stoplichten fietst u weer terug naar het Mgr. Zwijsenplein. Onderweg komt u langs het gemeentehuis. Maak hier een selfie waarbij de letters GEMEENTEHUIS en uzelf (met fiets!) duidelijk op de foto staan. Druk deze foto af en voeg deze toe in het kader. ____h.____

a. Apenboom of Slangenden) Araucari Araucana	b. AKVDM	c. Antwoorden tussen 80 en 81 cm zijn goed.
d. 3 lantaarnpalen	e. Arie Pot Dierenparkje	f. 20 lantaarnpalen
g. 31749	h. Selfie op volgende bladzijde plakken.	

h. Selfie met fiets én de letters van het gemeentehuis

Plak hier de foto van de selfie waarop je met fiets en de letters van het gemeentehuis te zien bent!

Stuur de foto ook naar: info@dorpsquizkerkdriel.nl
onderwerp mail: opdracht Selfie gemeentehuis + teamnummer + teamnaam.

96. Waar staat de brievenbus? Noem de straatnaam.



Mgr. Zwijssenplein



Julianastraat



Lindestraat



Hoorzik



Hoedenmakersstraat

97. De meule.

Wat zijn de overbruggingsverhoudingen van de Sara Catharina molen?

1:6,96 en 1:8,00

Overbrengingen

Bovenwiel 60 kammen
Bovenbonkelaar 27 kammen, steek 12,2 cm.
Spoorwiel 72 kammen
Steenschijflopen 23 en 20 staven, steek 10,5 cm.
Overbrengingsverhoudingen 1 : 6,96 en 1 : 8,00

Bron: Wikipedia

98. Spijlen

Hoeveel verticale spijltjes telt het hekwerk, langs de groene lijn bij onderstaande linkerfoto, ter hoogte van restaurant Brandend Zand aan de Zandstraat in Kerkdriel?. De dikkere grondpalen, zoals op onderstaande rechterfoto met een rood gemarkeerd, niet meegeteld. Uiteraard tellen de spijltjes in de poorten ook mee. We helpen je vast op weg 1,2,3,4,5,6, O ja, deze vraag levert veel punten op!



Antwoorden tussen 1505 en 1515 zijn goed

99. Drielse Iconen. Eind 2015 is de film Drielse Iconen kort in omloop geweest. Wie bezit de DVD en weet het antwoord op de vraag: Welke Drielenaar spreekt op de film Drielse Iconen bij 22.00 minuten?

Piet van Herwijnen

Categorie:
REKENEN



Categorie 8: Rekenen

100. Wat is de gemiddelde leeftijd van de organisatoren van de Dorpsquiz Kerkdriel die op de foto op pagina 5 staan afgebeeld vandaag op 25 mei 2019 (op één cijfer achter de komma)?

40,5 jaar

101. Wat is de som van alle huisnummers in de Antillenstraat te Kerkdriel?

1-3-5-7-9-11-13-15-17-2-4-6-8-10-12-14-16-18 = 171

102. Effe afrekenen

Van zo'n avond quizen krijg je toch wel honger. Jullie kunnen niet goed kiezen en er wordt op diverse plaatsen in Kerkdriel wat te eten gehaald. Bij de Chinees (New City) wordt vier keer nummer 35 en twee keer nummer 41 gehaald. Echter niet iedereen heeft zin in Chinees eten en er wordt ook friet gehaald bij Cheng / Poske, de bestelling is twee keer friet speciaal, twee kroketten en één satérol. Ten slotte zijn er nog een aantal van jullie team welke toch meer zin hebben in shoarma. Bij Maestro wordt twee keer een shoarma schotel (groot) besteld. Om dit alles op te halen, nemen jullie de auto. Na deze rit blijkt er twee liter Diesel verbruikt te zijn. Deze twee liter wordt exact weer aangevuld bij het BP tankstation in de Kerkstraat. Bij vertrek zaten er twee briefjes van € 50,00, één briefje van € 5,00 en twee muntjes van € 0,50 in de portemonnee. Hoeveel geld zit er nog in de portemonnee bij terugkomst nadat alles betaald is?

€ 17,91 en € 20,65 beide goedgerekend (i.v.m. pinbetaling Diesel)

103. Rekenen maar!

Bij de loswal aan Den Bol ligt een schip. Langs de zijkant van dit schip hangt een trap. De trap is 1,5 meter lang, gemeten vanaf de bovenste trede tot de onderste trede. De treden zitten 25 centimeter uit elkaar. De onderste trede raakt juist het water van de Maas. Tijdens het tij (eb en vloed) stijgt het water met 10 centimeter per 10 minuten. Hoe lang duurt het voordat de bovenste trede het water raakt?

Eeuwig, het schip stijgt ook mee

104. Kraak de kluis

De organisatie van de Dorpsquiz Kerkdriel heeft de antwoorden van de dorpsquiz uiteraard in de kluis opgeborgen liggen. Echter hebben de organisatoren gisteren te diep in het glaasje gekeken, waardoor ze de exacte code van de kluis niet meer voor de geest kunnen halen. Kunnen jullie ons helpen de code te kraken? Wat we nog wel weten is het volgende:

- Het betreft een 5-cijferig getal
- Het eerste getal is minder dan twee keer het tweede getal
- Het vierde getal is één meer dan het tweede getal
- De som van alle getallen is dertig
- Het vijfde getal plus het derde getal is gelijk aan veertien
- Het tweede getal plus het derde getal is gelijk aan tien

Wat is de code om de kluis te openen?

74658 of 55569

105. Cijferreeks

Welk getal hoort op de plaats van het ??

16	06	68	88	??	98
----	----	----	----	----	----

87 (lees de reeks op z'n kop)

106. Egon van Kessel fietst een berg op met een lengte van twintig kilometer, met een snelheid van tien kilometer per uur. Daarna daalt hij gedurende twintig kilometer met een snelheid van vijftig kilometer per uur. Hoe hoog is zijn gemiddelde snelheid per uur over het hele parcours?

16,66 km/uur of $16 \frac{2}{3}$ km/uur

107. De oppervlakte van een vierkant is 225 vierkante meter is. Wat is dan de omtrek van het vierkant in centimeters?

6.000 centimeter

108. Bowling Score Sheet

Wij zijn gezellig een avondje gaan bowlen, maar zijn vergeten de eindscores op te tellen. Kunnen jullie dit voor ons doen?

Bowling Score Sheet

PLAYER	1	2	3	4	5	6	7	8	9	10	TOTAL
Jeroen	4 5	3 /	⊗	3 /	5 2	8 /	⊗	⊗	5 3	2 / 3	
Antoon	⊗	⊗	⊗	⊗	⊗	⊗	⊗	⊗	⊗	⊗ ⊗ ⊗	
Ad	2 3	8 1	6 2	7 1	- 2	7 -	2 6	3 2	5 -	7 2	
Karin	3 /	⊗	⊗	5 /	4 /	⊗	3 /	⊗	⊗	3 / 8	
Robert	2 -	⊗	3 /	9 -	8 /	2 /	⊗	8 /	8 -	- -	

a. Jeroen = 155 punten

b. Antoon = 300 punten

c. Ad = 66 punten

d. Karin = 200 punten

e. Robert = 128 punten

109. De Telefoongids & Gouden Gids is in 2018 voor het laatst verschenen in boekvorm. Bepaal de som van de paginanummers waarop onderstaande inwoners van Kerkdriel staan vermeld in de laatst verschenen versie van de Telefoongids & Gouden Gids:

- Daams, J.A.M.
- Jonkers, H.
- Versteegh, A.F.M.

Pagina 241 + 242 + 245 = 728

110. Hieronder staan een drietal getallenreeksen. Het is de bedoeling om per getallenreeks op het getal 24 uit te komen. Je mag het getal maar één keer gebruiken, dit kun je doen door de vier getallen op te tellen, af te trekken, te delen en / of te vermenigvuldigen. De getallen staan in willekeurige volgorde en denk aan het gebruik van haakjes!

6 5 2 6	7 4 7 7	1 5 4 8
a. $(5-2) \times 6 + 6 = 24$	b. $(7 - (7:7)) \times 4 = 24$	c. $(5-1) \times 4 + 8 = 24$

111. Sudoku

Wij komen er niet uit, lossen jullie deze voor ons op?

9	2	5	4	3	7	6	1	8
3	1	4	5	6	8	9	7	2
6	8	7	1	9	2	5	3	4
8	7	2	3	5	1	4	6	9
4	5	9	8	7	6	1	2	3
1	6	3	9	2	4	7	8	5
7	3	8	6	4	5	2	9	1
5	9	6	2	1	3	8	4	7
2	4	1	7	8	9	3	5	6

112. Het is 2 januari 2019. In de haven bij Den Bol liggen vier schepen. Eén schip doet elke vier weken deze haven aan. Het tweede schip elke acht weken, het derde schip elke twaalf weken en het vierde schip elke zestien weken. Ze varen allen op 2 januari 2019 uit. Wanneer zijn alle vier de schepen weer tegelijk in de haven?

Datum en dag van de week noemen

Woensdag 4 december 2019

113. Een reeks getallen: 2584-4181-6765-10946-17711

a. Welk getal hoort er in deze reeks vier stappen verder?

121393

b. Hoe wordt een dergelijke reeks genoemd?

Reeks van Fibonacci

114. Guus-Bert en Mark staan aan de bar tijdens de Drielse kermis. Zegt Guus-Bert: 'Waarom geef je mij niet één van jouw biertjes, zodat we allebei evenveel biertjes hebben?' Waarop Mark het volgende antwoord geeft: 'Ik weet het beter. Waarom geef jij niet een van jouw biertjes aan mij, zodat ik er in totaal twee keer zoveel heb als jou!'

Geef aan hoeveel biertjes elk van de twee vrienden heeft.

Guus-Bert: 5 biertjes

Mark: 7 biertjes

115. Tel de kamernummers van onderstaande personen, die woonachtig zijn in De Leijenstein, op:

- J. van Baren-Jansen
- P. Bakker-de Jong
- J.H. de Leeuw

$56 + 110 + 156 = 322$

116. Beantwoord de volgende vragen en maak daarna de rekensom voor extra punten.

a. Wat is het jaartal op de gevel van Teisterbandstraat 49?

1983

b. In welk jaar werd de 1^e kerstshow georganiseerd door de Ker-Rolls (toen nog in Het Witte Huis)?

1978

c. In welk jaar is slagerij Chris van Heumen afgebrand op de hoek van het Mgr. Zwijsenplein / Graaf Ansfriedstraat?

1990

d. In welk jaar kwam de Tour de France door Kerkdriel?

1996

e. In welk jaar is de ijsbaan in Kerkdriel op de huidige locatie geopend?

1983

f. In welk jaar is de huidige gemeente Maasdriel ontstaan?

1999

g. Maak van de antwoorden van vraag 14a t/m f de volgende rekensom $(A+E+F) - (B+C+D)$

1

117. Heeft u een menuutje?

Ook voor de organisatie van de dorpsquiz is het een lange avond die behoorlijk wat energie kost, we hebben er dan ook behoorlijk honger van gekregen. Om de reserves weer aan te vullen, besluiten we gezamenlijk wat te eten. Niemand heeft echter zin om te koken, dus besluiten we om het makkelijk te doen. We bellen Chinees 'New City' en plaatsen de volgende bestelling:

Cha Siew Speciaal, Koa Ya, Gah Lok, San Siang, San Siang Haa, Tie Pan Varkensvlees, Tomatensoep, Champignonsoep, New City Soep, Pisang Goreng, Atjar, Nasi Goreng Speciaal, Nasi Goreng met chinese garnalen, Nasi "new city" Speciaal, Fou You Fang, Bami Goreng Speciaal, Bami Goreng met kippenlever en uien, Kai You Ming, Bami Goreng Compleet, Mihoen Goreng met garnalen, Mihoen Goreng "New City", Broccoli met ossenhaas, Foe Yong Hai met gesneden kip, Babi pangang met Balisau, Varkenshaas met champignons, Koe Low Yuk, Chau pah, Tie Pan Ossenhaas, Ossenhaas met champignons in oestersaus, Gefileerde kip met tomatensaus, Garnalen met Tomatensaus, Garnalen met Chinese champignons, Gefileerde zeetong met kerriesaus, Gefileerde zeetong met pikante saus en natuurlijk tot slot ook nog de Gado Gado

Een flinke bestelling ... en eigenlijk hadden we nog meer gerechten willen bestellen, alleen stonden deze niet op het menu.

Wat is bijzonder aan deze bestelling?

We hebben alle priemgetallen van de menukaart besteld

118. Een aantal beweringen!

1. Precies 1 van deze beweringen is onwaar
2. Precies 2 van deze beweringen zijn onwaar
3. Precies 3 van deze beweringen zijn onwaar
4. Precies 4 van deze beweringen zijn onwaar
5. Precies 5 van deze beweringen zijn onwaar
6. Precies 6 van deze beweringen zijn onwaar
7. Precies 7 van deze beweringen zijn onwaar
8. Precies 8 van deze beweringen zijn onwaar
9. Precies 9 van deze beweringen zijn onwaar
10. Precies 10 van deze beweringen zijn onwaar

a. Hoeveel van bovengenoemde beweringen zijn waar?

1 bewering, want ze spreken elkaar allemaal tegen

b. Welke bewering(en) is / zijn juist?

Bewering 9

119. Antoon koopt een bijzondere postzegel voor € 60,00. Een jaar later verkoopt hij deze weer voor € 70,00. Hij krijgt echter spijt en koopt de postzegel weer terug voor € 80,00. Weer een jaar later verkoopt hij de postzegel alsnog voor € 90,00. Hoeveel heeft de postzegel hem in totaal opgebracht?

€ 20,00

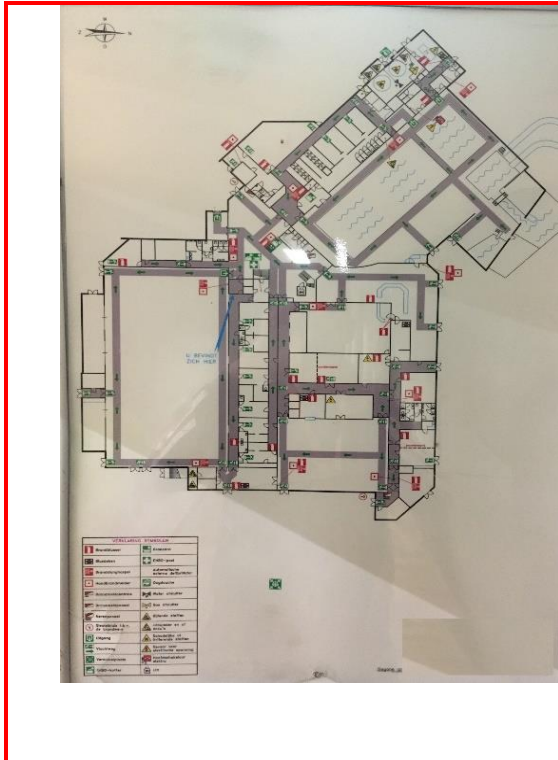
Categorie:

WAAR BEN IK ?

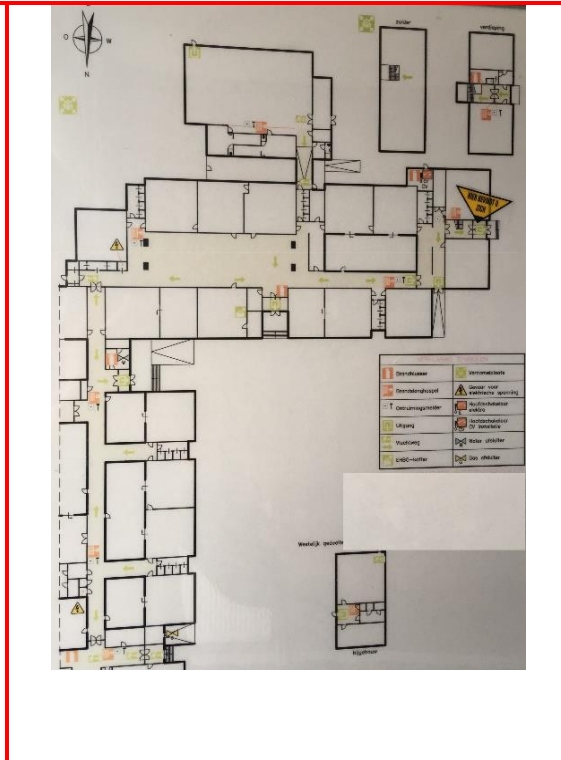


Categorie 9: Waar ben ik?

120. Omdat veiligheid boven alles gaat zijn wij benieuwd hoe het met uw veiligheidskennis is gesteld. Hieronder ziet u een aantal vluchtplannen van openbare gebouwen in Kerkdriel. Noem bij elk vluchtplan de naam van het gebouw/bedrijf.



a. De Kreek



b. Mgr. Zwijsenschool



c. D'n Delkant



d. Gemeentehuis

121. Tijdens de kerstperiode zijn er veel dorpsgenoten die hun huizen versieren met de mooiste verlichting. Waar zijn onderstaande foto's genomen? Graag straatnaam en huisnummer vermelden.



a. Kerkstraat 36



b. Sint Annatroonstraat 24

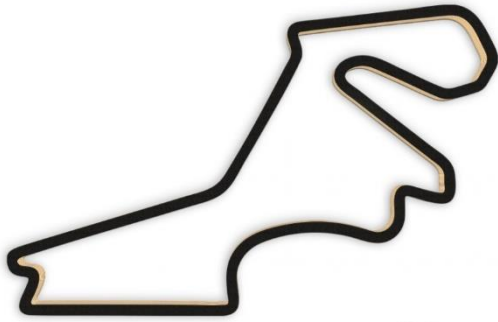


c. Graaf Ansfriedstraat 23



d. Duitse Weistraat 5


122. Sinds Max Verstappen furore maakt in de Formule 1 zijn er heel wat fans bijgekomen. Wij zijn benieuwd of jullie weten waar onderstaande circuits liggen. Bij het antwoord graag naam van het circuit vermelden alsmede het land waar dit circuit ligt.




a. Istanbul park, Turkije



b. Sotsji Autodrom, Rusland



c. Circuit Paul Ricard, Frankrijk



d. Shanghai International Circuit, China

123. Brievenbussen! In ons mooie dorp zijn die er in alle soorten en maten. Hieronder vindt u een aantal bijzondere exemplaren. Bij welke huizen horen deze brievenbussen? In het antwoord moet zowel de straatnaam als huisnummer worden vermeld.



a. Kerkstraat 69



b. Paterstraat 23



c. Leijensteinstraat 4a t/m 4i



d. Leijensteinstraat 24



e. Richard van Peltstraat 2 t/m 8



f. Nijverheidsstraat 7

124. Nederland kent vele achtbanen. Van klein tot groot en van hout tot staal. Wie weet in welk pretpark onderstaande achtbanen staan? Vermeld het juiste pretpark onder elke foto.



a. Wildlands Adventure Zoo Emmen



b. Walibi Holland




c. Toverland



d. Efteling

125. Met de deur in huis vallen!!

Herkennen jullie deze deuren? Sommigen ben je waarschijnlijk al vaak gepasseerd en anderen minder vaak. Geef aan bij welke winkel/bedrijf welke deur hoort.



a. De Schutskooi



b. Hip Stoer Lief



c. Mevr. Soetekauw



d. Dameskapsalon Yvonne



e. Dokter Welling & Van der Wijst



f. Euronics/De Rouw Electro



g. NC Fit



h. Jeroen Verhoecx Groente & Fruit



i. De Villa



j. Visser advocatuur / Wijergangs ass.

126. We gaan weer even terug naar school! Topografie om precies te zijn. Hieronder zie je enkele kaarten van landen in de wereld. Wij zijn benieuwd of je ze allemaal herkent? Noem het betreffende land onder de foto



a. China



b. België



c. Italië



d. Griekenland



f. Jamaica



g. Chili

127. Hoge nood! Je herkent dat wel. Sta je lekker te kletsen met een drankje in je hand maar dan komt toch echt het moment dat je naar het toilet moet. Wij hebben enkele toiletten in Kerkdriel op de foto gezet. Wij horen graag waar onderstaande foto's zijn gemaakt. Noem de naam van het gebouw/bedrijf.



a. De Kreek



b. De Leijenstein




c. Cafetaria 't Poske



d. Babbels



e. Het Luchtschip



f. Pizzeria Da Roberto

128. Rondje Turrep!

Wie kent 't niet, effe snel een rondje door Driel om te kijken of alles nog hetzelfde is als de dag ervoor. Deze keer doen we het rondje Driel vanaf papier:

Je vertrekt met de auto vanaf het Mgr. Zwijsenplein in de richting van café Babbels en slaat bij het reisbureau rechtsaf. Voorbij de Rabobank slaan we rechtsaf en rijden door tot we niet verder kunnen, bij de T-splitsing gaan we linksaf en nemen de tweede weg rechts. Vervolgens gaan we wederom de tweede weg rechts. Bij het volgende kruispunt steken we recht over en nemen de tweede mogelijkheid om rechtsaf te slaan. In deze straat nemen we de eerstvolgende mogelijkheid om rechtsaf te slaan en nemen daarna de eerste weg rechts. Sla hierna de eerste weg linksaf en vervolgens nemen we de derde afslag links en vervolgen deze weg tot we niet verder meer kunnen. Sla hier linksaf en blijf deze weg volgen tot je niet verder meer kunt en een keuze moet maken tussen links- of rechtsaf. Hier gaan we linksaf en volgen deze weg tot we weer op een T-splitsing komen. Sla hier linksaf en neem daarna de eerste weg rechts. Volg deze weg tot je niet verder kunt en sla wederom linksaf. Sla de achtste weg linksaf en rijd door tot het kruispunt, hier sla je rechtsaf en direct linksaf. Blijf deze weg volgen (bij de splitsing houd je rechts aan) tot je de eerste weg rechtsaf in kunt slaan, hier gaan we in en aan het einde van de weg slaan we rechtsaf, de eerstvolgende afslag gaan we rechts en nemen daarna de eerste mogelijkheid om linksaf te slaan. Aangekomen op het volgende kruispunt slaan we rechtsaf. We nemen hierna de tweede straat links en daarna de tweede straat rechts. We rijden door tot de t-splitsing en slaan rechtsaf. Daarna nemen we de derde straat rechts en de tweede straat links. Na ongeveer 50 meter parkeren we aan de rechterzijde. Waar zijn we nu?

Oh ja, uiteraard is het zo dat we rekening houden met de verkeersregels, een eenrichtingsweg mogen we dus niet via de verkeerde kant inrijden. We nemen dan de volgende mogelijkheid.

Parkeerplaats voor/naast de kerk (Julianastraat)

129. Bij welke sportclub in Kerkdriel zijn we?

a. 51.770619,5.330610

Tennisvereniging Maasdriel

b. 51.780033,5.328386

Golfclub de Dorpswaard

130. Onze fotograaf heeft her en der in Kerkdriel een aantal foto's gemaakt. Hij weet echter niet meer in welke straat de foto's zijn genomen. Kunnen jullie hem helpen? Noteer onder elke foto de naam van de straat waarin deze genomen is.



a. Buurmeesterstraat



b. Brouwerstraat



c. Surinamestraat



d. Akelei



e. Industriestraat



f. Bussenerweg

131. vul in onderstaande zinnen een plaatsnaam in, op de plaats van de streep, zodat deze zin weer vlot klinkt! (Voorbeeld: toen in de kroeg een knokpartij had plaats gevonden, vond de politie bij aankomst een _____ Antwoord; Dodewaard)
(Let op: Er zijn soms meerdere antwoorden mogelijk! één antwoord is voldoende)

a. In de koffie zat zoveel suiker, het kon haast niet _____ ??? _____

Zoetermeer

b. Mijn voorkeur gaat uit naar de zomer, vandaar dat ik zoveel mogelijk de _____ ??? _____

Winterswijk

c. Die medewerker heeft bij mij goed verdiend. Hoeveel? Dat ga ik niet zeggen want ik praat nooit _____ ??? _____

Overloon

Categorie:

GESCHIEDENIS



Categorie 10: Geschiedenis

132. In 1995 moesten de inwoners van Kerkdriel evacueren vanwege het hoge waterpeil. Het is één keer eerder voorgekomen dat de inwoners van Kerkdriel moesten evacueren. Er was destijds zelfs een heuse watersnoodramp, waarbij toen bijna alleen het 'Plein' boven water uit kwam. In welk jaar was dit?

1861

133. In welk jaar werd de eerste editie van de jaarmarkt 'Op d'n Delkant' gehouden?

1983

134. Door de jaren heen is er veel veranderd in Kerkdriel. Op de plaats van de 'oude' bibliotheek zit nu bijvoorbeeld 'het Kloosterhof'. Weten jullie van onderstaande oude voorzieningen wat er tegenwoordig op deze plaats is gevestigd?

a. Meubelcentrum Van Wiggen / Van de Zalm BV

Poolse supermarkt 'Polski Sklep Stokrotka' en Chris van Uitert Tweewielers beiden goed

b. Albert Heijn

Plein 15 mode

c. Drogisterij de Gouden Vijzel

Esuals

d. Het Stoffenpaleis

Reisbureau VakantieXperts

135. Onderstaande winkels / ondernemers / voorzieningen kent uiteraard elke Drielenaar nog. Maar kunnen jullie aangeven op welk adres (straatnaam + huisnummer) deze winkels destijds waren gevestigd?

a. MCD Van den Oord

Julianastraat 12-14

b. Videotheek De Maaskant

Graaf Ansfriedstraat 36

c. Brood- en banketbakkerij N.H.M. de Gier

Mgr. Zwijzenplein 31

d. De Paulusschool voor MAVO

de Hohorst 4

e. Notaris Mr. H.P.J.M. Koopmans

Kerkstraat 53/53a

f. Foto 'de Maas'

Kromsteeg 6

136. Beantwoord de volgende vragen over de Drielse carnaval.

a. Wie was de allereerste Prins Carnaval van Prinsenvereniging De Peuteblékers?

Toon van Hooft

b. In welk jaar was diegene de eerste Prins Carnaval?

1968

c. In welk jaar zijn De Piepelenbergers opgericht?

1967

d. Wie was de oprichter van De Piepelenbergers?

Pater Van 't Walderveen

e. In welk jaar was Gijs Sars prins van De Piepelenbergers?

1980

f. Wie was er prins van De Piepelenbergers in 1984?

Peter van Herwijnen

g. In welk jaar werd er voor het laatst carnaval gevierd in Het Witte Huis?

1986

137. In 1995 is er ter gelegenheid van de herdenking van 50 jaar bevrijding een speciale munt geslagen 'het Drielenaartje'. Het merendeel van deze munt is in nikkel uitgevoerd. Op bestelling zijn er ook een aantal exemplaren in goud en zilver uitgevoerd. Welke waarde had de nikkelen variant?

5,- gulden

138. Sinds 1 januari 1999 behoort Kerkdriel tot de nieuwe gemeente Maasdriel. In de periode van 1 januari 1999 tot heden heeft deze gemeente 8 (waarnemend) Burgemeesters gehad. Zet deze Burgemeesters in volgorde op basis van de ambtstermijn. Begin met de Burgemeester die de langste periode de functie van Burgemeester heeft vervuld in de gemeente Maasdriel.

Henny van Kooten	4 jaar, 6 maanden, 4 dagen
Jan Pommer	4 jaar, 4 maanden, 15 dagen
Jack Mikkers	3 jaar, 4 maanden, 15 dagen
Ada Boerma	2 jaar, 7 maanden, 20 dagen
Gerd Prick	1 jaar, 10 maanden, 19 dagen
Dick de Cloe	1 jaar, 7 maanden, 30 dagen
Frans Moree	1 jaar, 0 maanden, 15 dagen
Arno Frankfort	0 jaar, 9 maanden, 9 dagen

139. In de jaren '80 en '90 had Kerkdriel een biljartclub genaamd D.V.T.
Voor welke tekst stond deze afkorting ?

De Vrolijke Trekkers

140. In juni 2016 viel de buurt-ton van de postcodeloterij in Kerkdriel. Weten jullie nog in welke straat deze prijs viel ? En hoeveel bewoners dit bedrag van € 100.000 moesten verdelen?

De Kruidenlaan en 12 bewoners

141. Historische momenten (wereld)

Kun je onderstaande gebeurtenissen benoemen? Vermeld ook het jaartal waarin dit gebeurde!



a. Afbreken Berlijnse muur 1989




b. Bijlmercrash 1992



c. Nederland wint EK 1988



d. Moord op Kennedy 1963



e. Woodstock 1969



f. Kernramp Tsjernobyl 1986

142. Historische momenten (Kerkdriel)

Kun je onderstaande gebeurtenissen benoemen? Jaartal is niet nodig.



a. Eerste paal Mgr. Zwijsenschool



b. (her)opening 'Dutje' (v/d Pol)



c. Onthulling borstbeeld Mgr. Zwijsen



d. Opening fabriek Piet Verachtert



e. Huldiging Gertjan Theunissen (bolletjestrui)



f. Stroomstoring door Apache helicopter

143. Een afkortzaag, een schroefmachine, een slijptol, ga zo maar door. Allerlei gereedschappen waar we tegenwoordig mee werken. Vroeger waar ut allemoal anders. Herkennen jullie onderstaande gereedschappen? Zet de naam van het gereedschap onder de foto.

	
a. Een Dorsvlegel	b. Juk
	
c. Een Hekel	d. Een Spanzaag